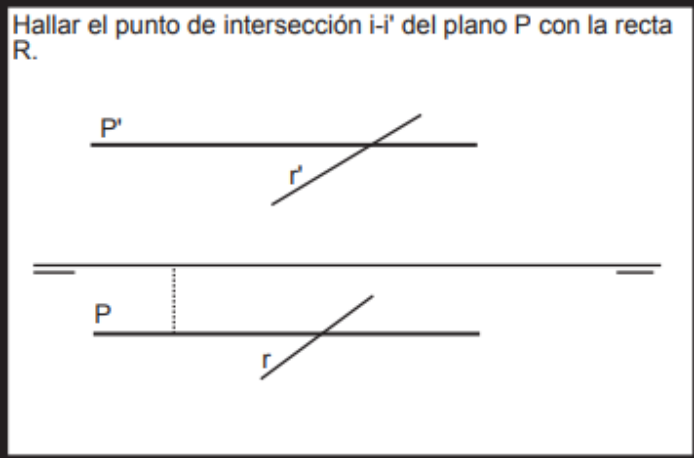
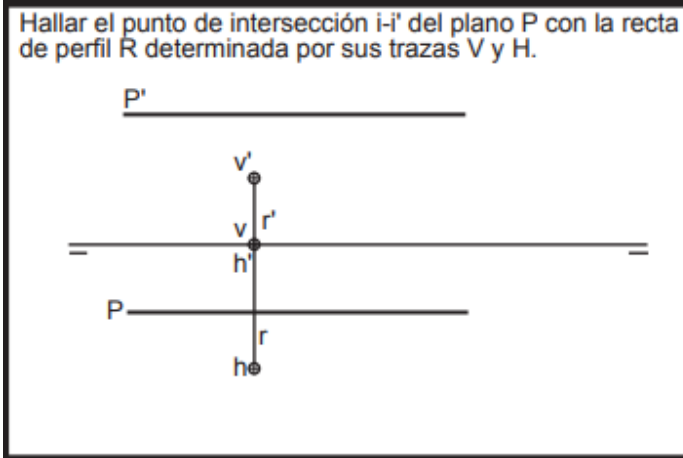
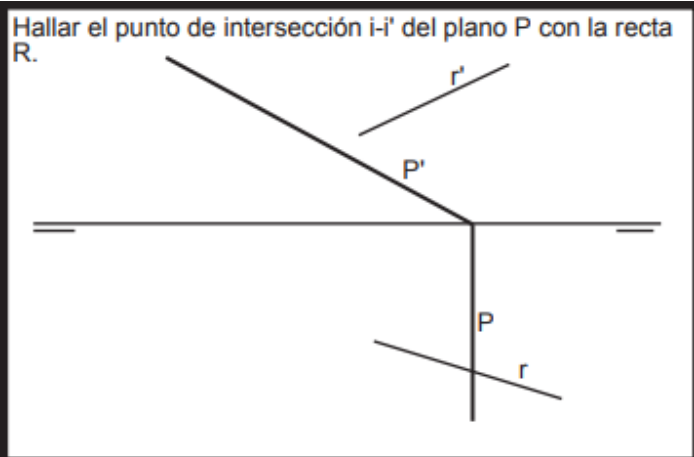
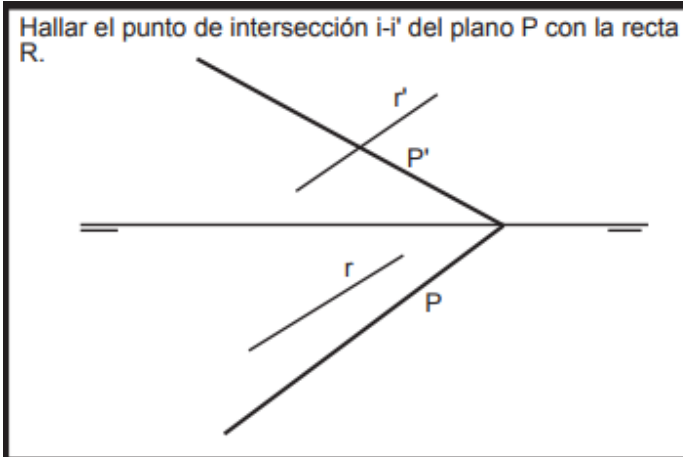


Nombre: _____ Fecha: _____



6. Dibujar un plano horizontal. Dibujar una recta que pertenezca al plano y un punto que pertenezca a la recta.

7. Dibujar un plano frontal. Dibujar una recta que pertenezca al plano y un punto que pertenezca a la recta.

8. Dibujar un plano paralelo a la LT. Dibujar una recta que pertenezca al plano y un punto que pertenezca a la recta.

9. Dibujar un plano de perfil . Dibujar una recta que pertenezca al plano y un punto que pertenezca a la recta.

10. Dibujar la recta de MÁXIMA PENDIENTE del plano dado.

10. Dibujar la recta de MÁXIMA INCLINACIÓN del plano dado.

Dibujar las proyecciones de las rectas que pasan por los pares de puntos dados determinando sus trazas, partes vistas y ocultas y los puntos de intersección con los planos bisectores.

