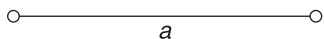
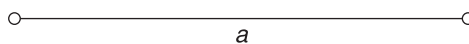


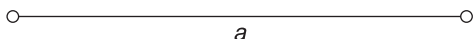
Dibuja un cuadrado conociendo el lado.  
Datos:  $a = 40$  mm.



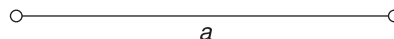
Dibuja un rectángulo conociendo la diagonal y un lado.  
Datos:  $a = 60$  mm,  $d = 70$  mm.



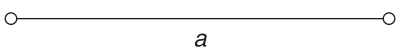
Dibuja un rombo conociendo las diagonales.  
Datos:  $a = 60$  mm,  $b = 40$  mm.



Dibuja un romboide conociendo la base, su altura y un ángulo.  
Datos:  $a = 50$  mm,  $h = 45$  mm,  $A = 75^\circ$ .



Dibuja un trapecio isósceles dada la base mayor, la altura y un ángulo agudo.  
Datos:  $a = 50$  mm,  $h = 35$  mm,  $A = 60^\circ$ .



Dibuja un trapecioide conociendo una diagonal y los cuatro lados.  
Datos:  $a = 50$  mm,  $b = 48$  mm,  $c = 43$  mm,  $d = 40$  mm.  
Diagonal = 55 mm.

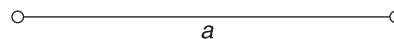


Lámina: <b>8</b>	Apellidos, nombre:	Grupo: N°:	Calificación:
Fecha:			
Escala:	Centro:	<b>Cuadriláteros</b>	