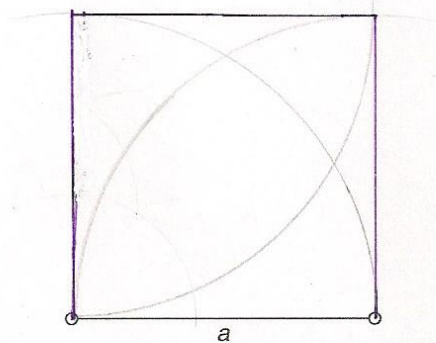
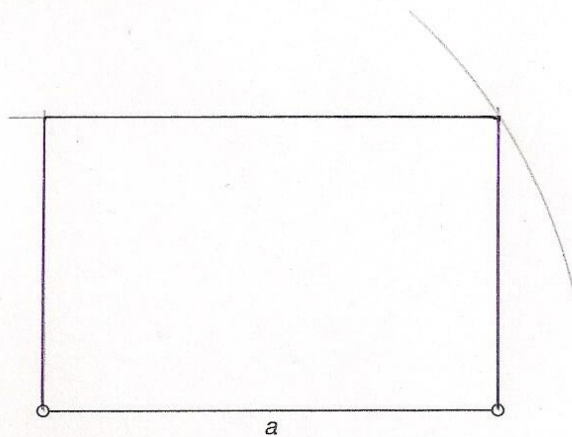


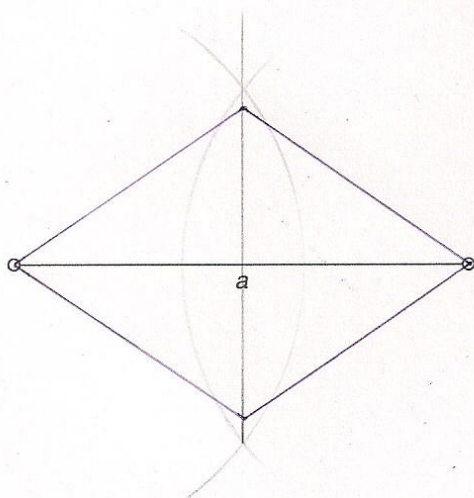
Dibuja un cuadrado conociendo el lado.
 Datos: $a = 40 \text{ mm}$.



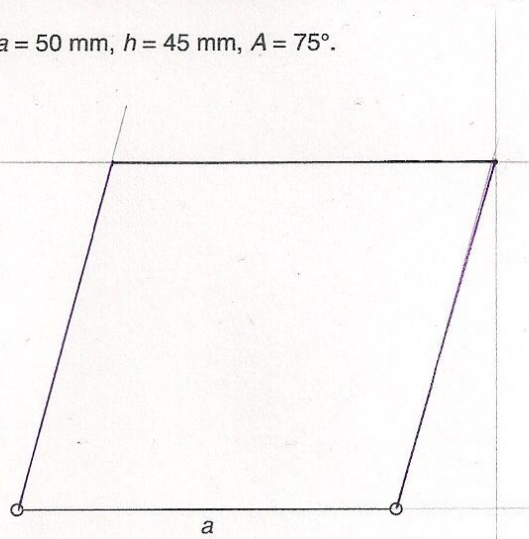
Dibuja un rectángulo conociendo la diagonal y un lado.
 Datos: $a = 60 \text{ mm}$, $d = 70 \text{ mm}$.



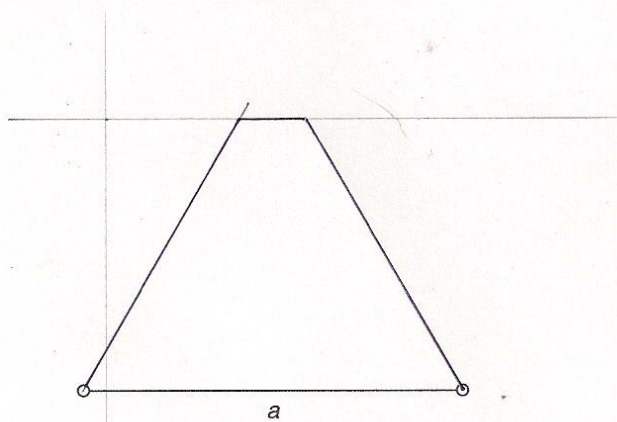
Dibuja un rombo conociendo las diagonales.
 Datos: $a = 60 \text{ mm}$, $b = 40 \text{ mm}$.



Dibuja un romboide conociendo la base, su altura y un ángulo.
 Datos: $a = 50 \text{ mm}$, $h = 45 \text{ mm}$, $A = 75^\circ$.



Dibuja un trapecio isósceles dada la base mayor, la altura y un ángulo agudo.
 Datos: $a = 50 \text{ mm}$, $h = 35 \text{ mm}$, $A = 60^\circ$.



Dibuja un trapezoide conociendo una diagonal y los cuatro lados.
 Datos: $a = 50 \text{ mm}$, $b = 48 \text{ mm}$, $c = 43 \text{ mm}$, $d = 40 \text{ mm}$.
 Diagonal = 55 mm .

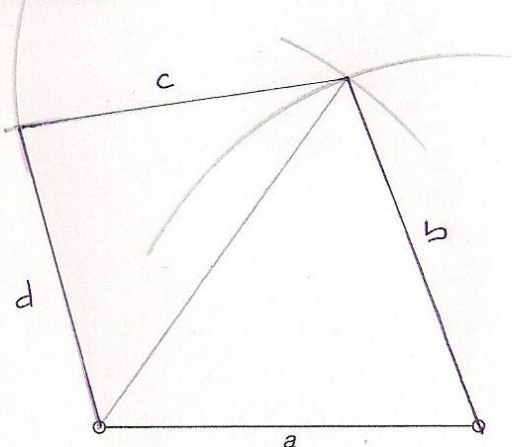


Lámina: **8**

Apellidos, nombre:

Grupo: N°:

Calificación:

Fecha:

SOLUCIONES.

Escala:

Centro:

Cuadriláteros